

ETUDE DE DOCUMENTS

Analyse de deux documents en géographie

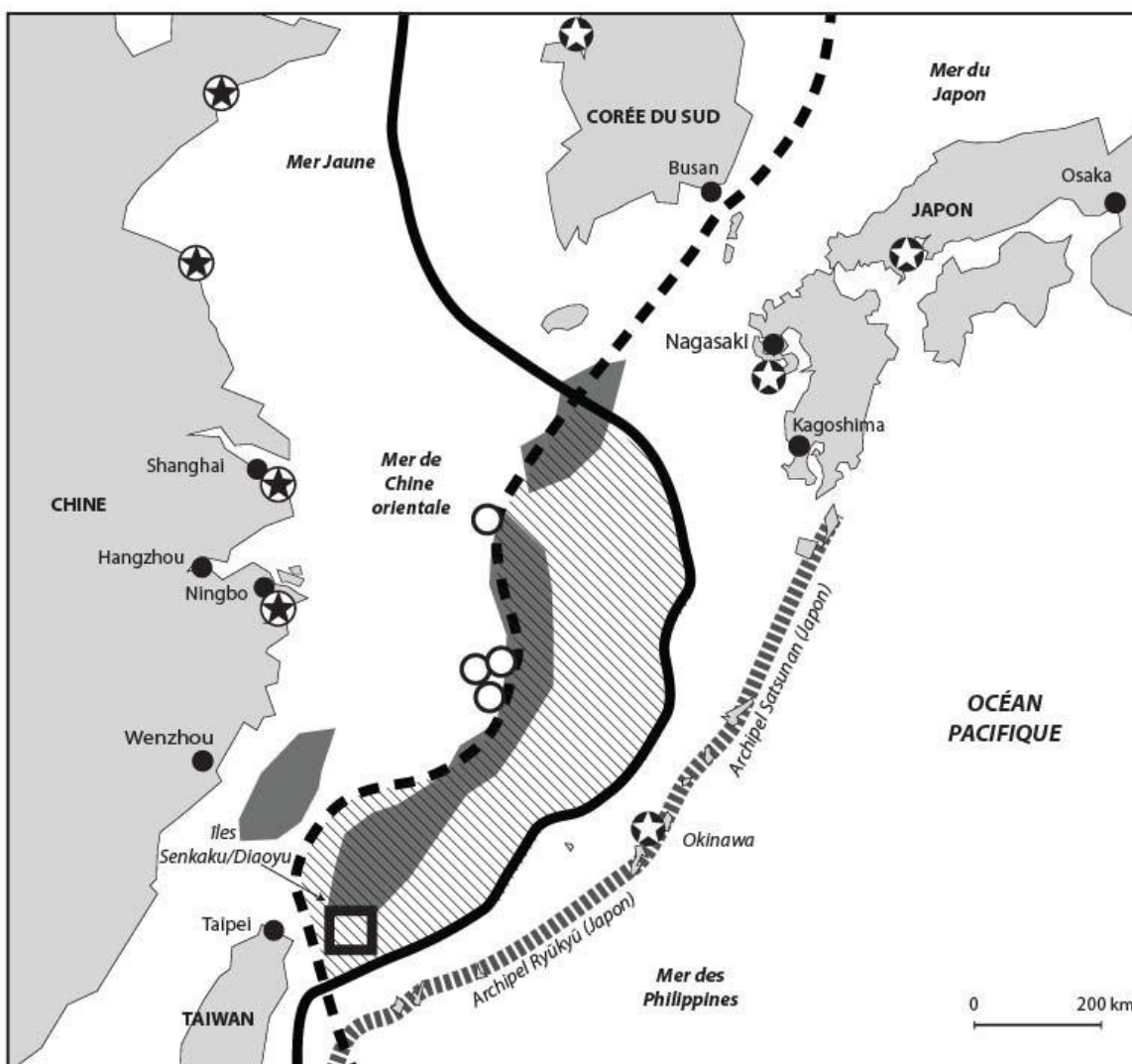
Le Japon et la Chine : deux États concurrents en Asie de l'Est.

Consigne :







À partir de l'analyse des deux documents, montrez que le Japon et la Chine sont deux États concurrents sur le plan géopolitique en Asie de l'Est.

En confrontant les deux documents, expliquez la complexité des relations économiques entre ces deux États.




Document 1 – Le conflit territorial entre le Japon et la Chine en Asie de l'Est



Des espaces convoités

-  Les Iles Senkaku / Diaoyu objets de tensions entre la Chine et le Japon
-  Limite de la Zone économique exclusive revendiquée par la Chine
-  Limite de la Zone économique exclusive revendiquée par le Japon
-  Zone maritime dont la Chine et le Japon se disputent la possession
-  Ressources supposées d'hydrocarbures
-  Exploitation *offshore* d'hydrocarbures par la Chine

Des espaces sous contrôle

-  Bases militaires américaines
-  Bases militaires chinoises
-  "1ère ligne d'îles" (*green line*) : espace maritime dont les autorités chinoises revendiquent le contrôle militaire

Sources : www.diploweb.com
www.thediplomat.com

Document 2 – Les relations Chine–Japon vues par le dessinateur indien *Paresh*



Source : Dessin publié dans un journal de Dubai, puis dans *Le monde en 2013*, *The Economist* / Cou